

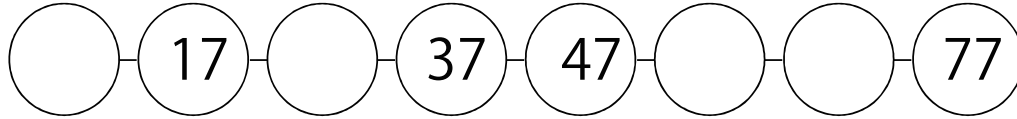


いくつずつふえる？

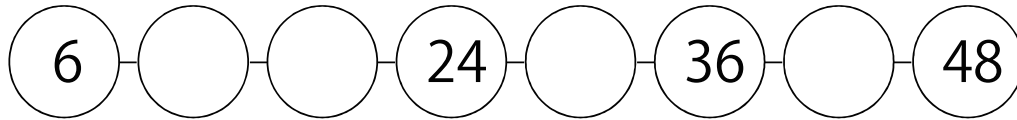
問題

いくつずつふえているか、○の中に数を入れましょう。

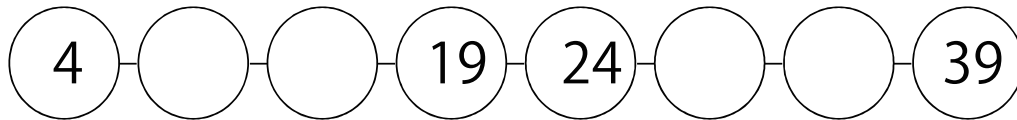
①



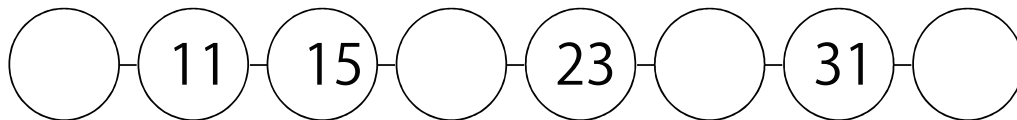
②



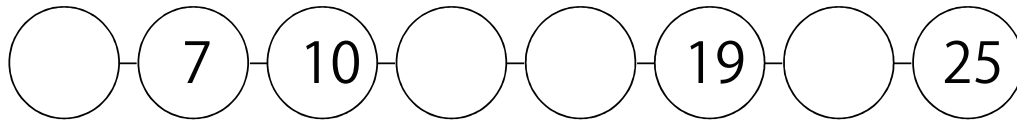
③



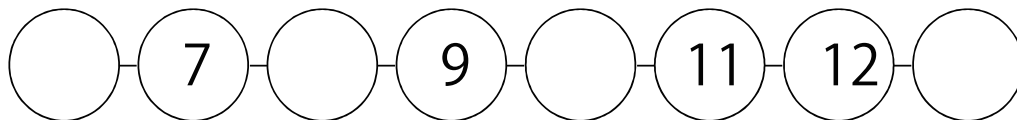
④



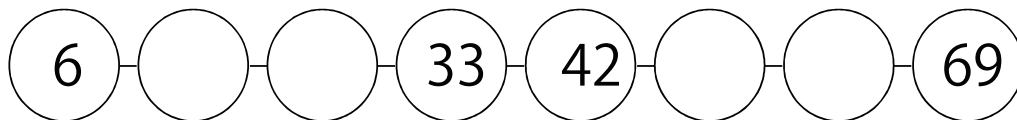
⑤



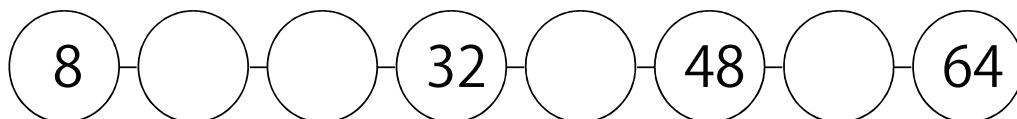
⑥



⑦



⑧



日付 年 月 日 名前

時間の記録 分 秒



いくつずつふえる？

問題

いくつずつふえているか、○の中に数を入れましょう。

①

○(2) ○ ○ ○(23) ○ ○(37) ○(44) ○

②

○ ○(9) ○(15) ○ ○ ○(33) ○(39) ○

③

○ ○(16) ○ ○(36) ○ ○(56) ○(66) ○

④

○(7) ○ ○ ○(16) ○ ○(22) ○ ○(28)

⑤

○(8) ○ ○ ○(38) ○ ○(58) ○(68) ○

⑥

○(6) ○ ○ ○(21) ○ ○(31) ○ ○(41)

⑦

○(4) ○ ○ ○(31) ○(40) ○ ○(58) ○

⑧

○ ○(16) ○ ○(34) ○(43) ○ ○ ○(70)

日付 年 月 日

名前

時間の記録

分 秒



いくつずつふえる？

問題

いくつずつふえているか、○の中に数を入れましょう。

①

○ 1 ○ ○ 28 ○ 46 ○ 64

②

○ 11 ○ 17 ○ ○ 35 41 ○

③

○ 3 ○ 19 ○ 35 ○ ○ 59

④

○ 19 ○ 39 49 ○ 69 ○

⑤

○ 7 ○ 21 ○ 35 ○ 49 ○

⑥

○ 5 ○ 9 11 ○ 15 ○

⑦

○ 10 ○ 12 ○ 14 15 ○

⑧

○ 12 ○ 26 33 ○ ○ 54

日付

年

月

日

名前

時間の記録

分

秒




いくつずつふえる？

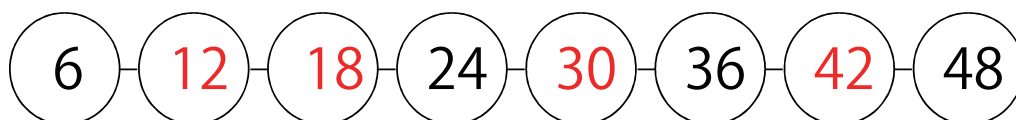
解答

いくつずつふえているか、○の中に数を入れましょう。

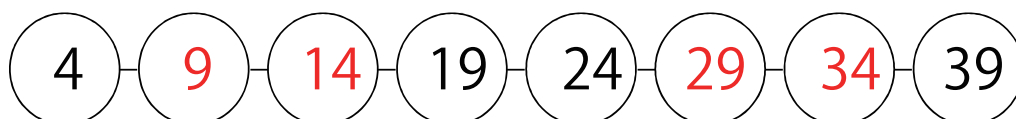
①




②




③



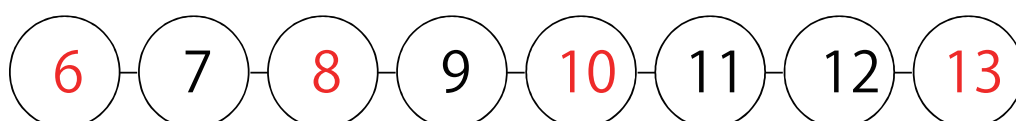
④




⑤



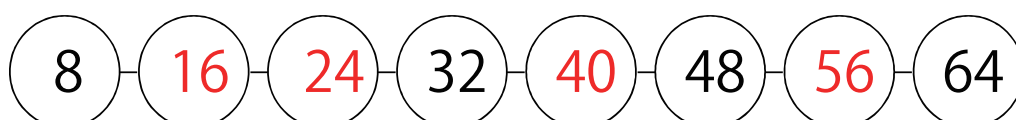
⑥



⑦



⑧



日付

年

月

日

名前

時間の記録

分

秒

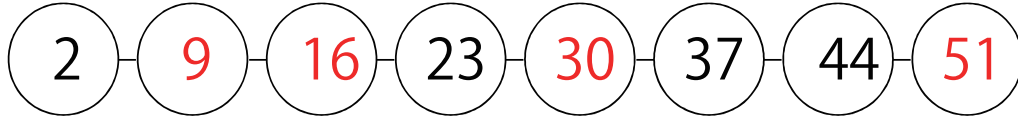


いくつずつふえる？

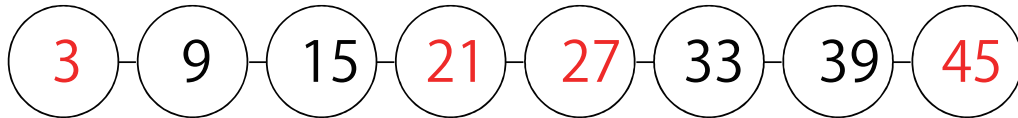
解答

いくつずつふえているか、○の中に数を入れましょう。

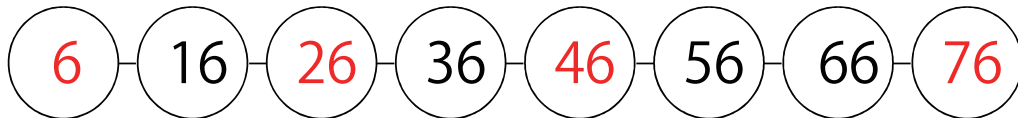
①



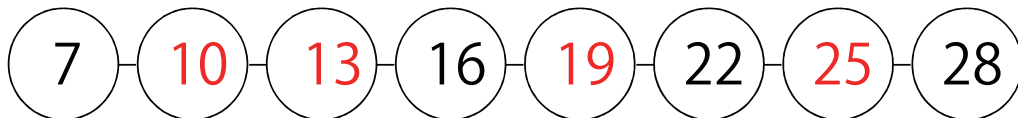
②




③



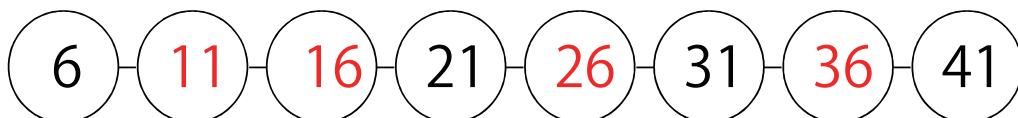
④



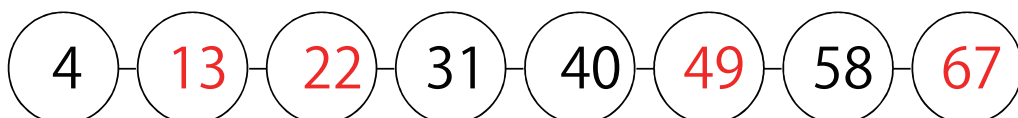
⑤




⑥



⑦



⑧



日付 年 月 日 名前

時間の記録 分 秒

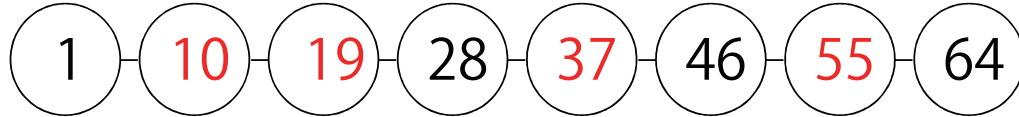


いくつずつふえる？


解答

いくつずつふえているか、○の中に数を入れましょう。

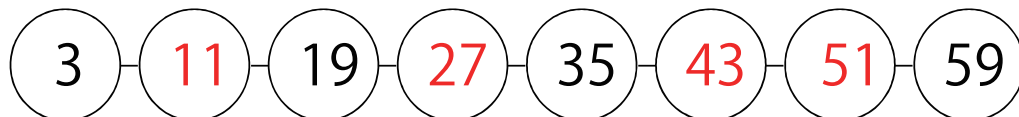
①




②




③



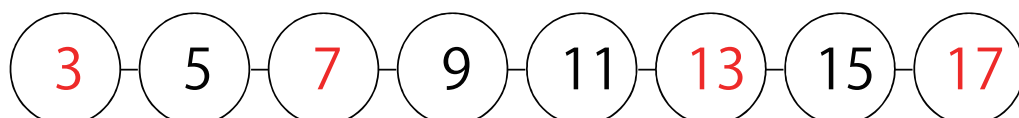
④




⑤



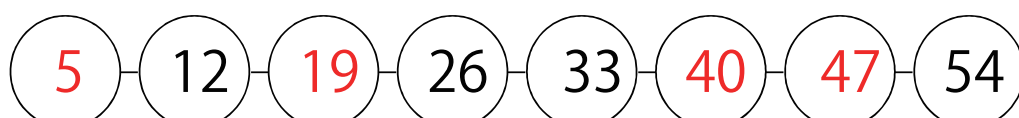
⑥



⑦



⑧



日付

年

月

日

名前

時間の記録

分

秒